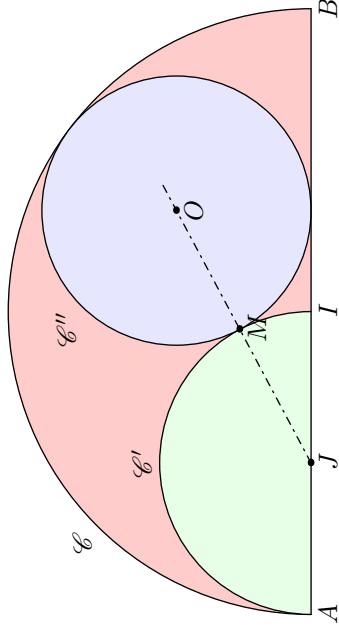


Sangaku - partie 4

On souhaite reproduire la Sangaku ci-contre représentant un cercle tangent à deux demi-cercles et tangent à un diamètre du plus grand demi-cercle.

Voici une représentation de la figure avec quelques points importants de celle-ci :



et voici quelques propriétés de cette configuration :

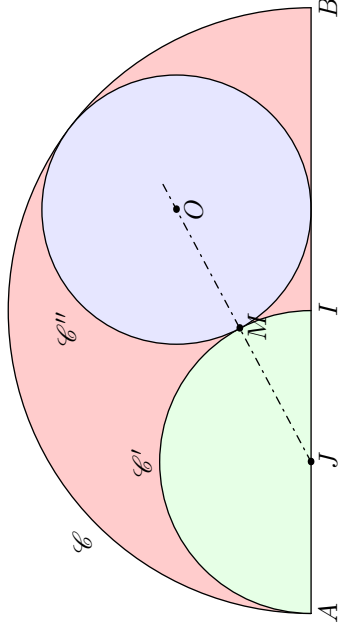
- Le demi-cercle \mathcal{C} a pour diamètre le segment $[AB]$.
- Le point I est le milieu du segment $[AB]$.
- Le demi-cercle \mathcal{C}' a pour diamètre le segment $[AJ]$.
- Le point J est le centre du demi-cercle \mathcal{C}' .
- Le point M est un point libre du cercle \mathcal{C}' .
- Le point O est un point libre de la demi-droite $[JM)$.
- Le cercle \mathcal{C}'' a pour centre O et passe par le point M .

Ajuster la position des points M et O pour obtenir la figure présentée.

Sangaku - partie 4

On souhaite reproduire la Sangaku ci-contre représentant un cercle tangent à deux demi-cercles et tangent à un diamètre du plus grand demi-cercle.

Voici une représentation de la figure avec quelques points importants de celle-ci :



et voici quelques propriétés de cette configuration :

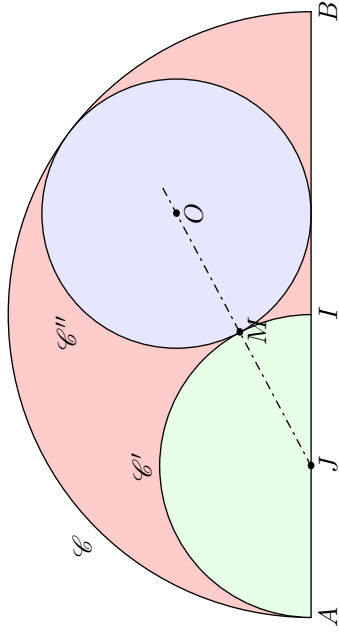
- Le demi-cercle \mathcal{C} a pour diamètre le segment $[AB]$.
- Le point I est le milieu du segment $[AB]$.
- Le demi-cercle \mathcal{C}' a pour diamètre le segment $[AJ]$.
- Le point J est le centre du demi-cercle \mathcal{C}' .
- Le point M est un point libre du cercle \mathcal{C}' .
- Le point O est un point libre de la demi-droite $[JM)$.
- Le cercle \mathcal{C}'' a pour centre O et passe par le point M .

Ajuster la position des points M et O pour obtenir la figure présentée.

Sangaku - partie 4

On souhaite reproduire la Sangaku ci-contre représentant un cercle tangent à deux demi-cercles et tangent à un diamètre du plus grand demi-cercle.

Voici une représentation de la figure avec quelques points importants de celle-ci :

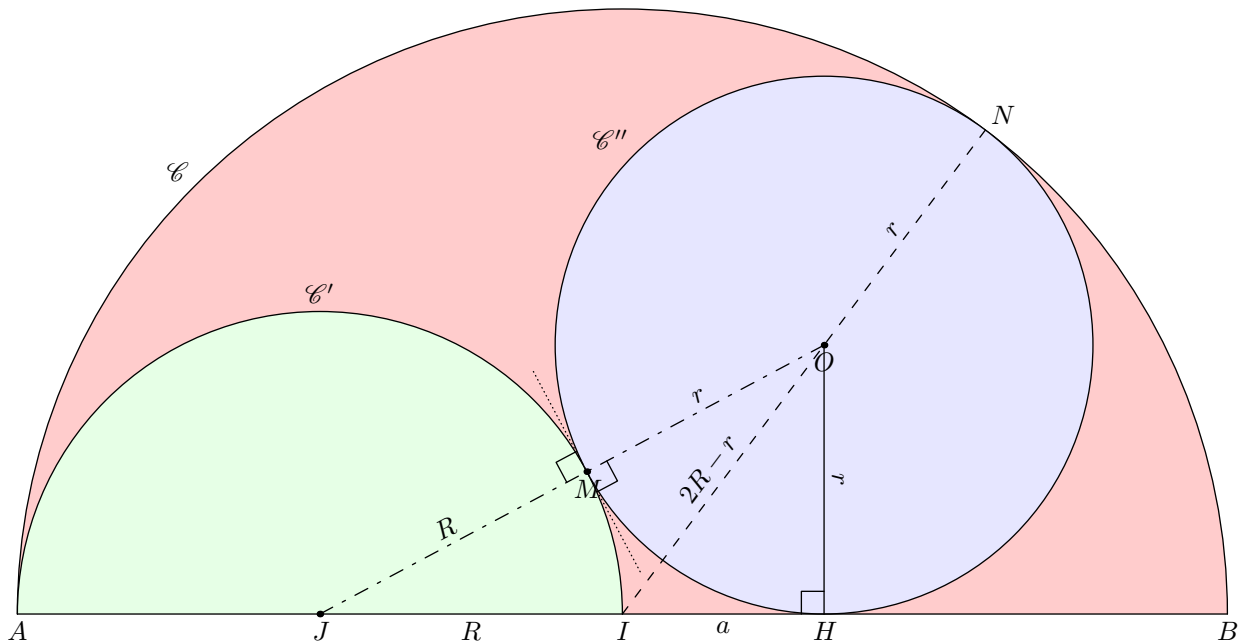


et voici quelques propriétés de cette configuration :

- Le demi-cercle \mathcal{C} a pour diamètre le segment $[AB]$.
- Le point I est le milieu du segment $[AB]$.
- Le demi-cercle \mathcal{C}' a pour diamètre le segment $[AJ]$.
- Le point J est le centre du demi-cercle \mathcal{C}' .
- Le point M est un point libre du cercle \mathcal{C}' .
- Le point O est un point libre de la demi-droite $[JM)$.
- Le cercle \mathcal{C}'' a pour centre O et passe par le point M .

Ajuster la position des points M et O pour obtenir la figure présentée.

Sangaku - Partie 4 - Fiche professeur



Pour construire la figure, on utilise : $a = \frac{2}{3} \cdot R$; $r = \frac{8}{9} \cdot R$

On note R le rayon du cercle \mathcal{C}' . Voici quelques remarques sur la figure ci-dessus :

- $[JM]$ et $[JI]$ sont deux rayons du cercle \mathcal{C}' .
- $[ON]$, $[OM]$ et $[OH]$ sont des rayons du cercle \mathcal{C}'' .
- Les points J , M et O sont alignés.
- Le cercle \mathcal{C} a pour rayon $[IA]$ et $[IN]$ qui ont pour mesure $2 \cdot R$. On en déduit la mesure du segment $[IO]$.

Utilisons l'angle droit \widehat{JHO} par deux fois :

- Dans le triangle JHO rectangle en H , on a la relation :

$$JO^2 = JH^2 + HO^2$$

$$(R + a)^2 + r^2 = (R + r)^2$$

$$R^2 + 2 \cdot R \cdot a + a^2 + r^2 = R^2 + 2 \cdot R \cdot r + r^2$$

$$2 \cdot R \cdot a + a^2 = 2 \cdot R \cdot r$$

$$a^2 = 2 \cdot R \cdot r - 2 \cdot R \cdot a$$

- Dans le triangle IOH rectangle en H , on a la relation :

$$IH^2 + OH^2 = IO^2$$

$$a^2 + r^2 = (2 \cdot R - r)^2$$

$$a^2 + r^2 = 4 \cdot R^2 - 4 \cdot R \cdot r + r^2$$

$$a^2 = 4 \cdot R^2 - 4 \cdot R \cdot r$$

De ces deux égalités, on obtient la relation :

$$2 \cdot R \cdot r - 2 \cdot R \cdot a = 4 \cdot R^2 - 4 \cdot R \cdot r$$

$$R \cdot (2 \cdot r - 2 \cdot a) = R \cdot (4 \cdot R - 4 \cdot r)$$

La longueur R étant non-nulle :

$$2 \cdot r - 2 \cdot a = 4 \cdot R - 4 \cdot r$$

$$-2 \cdot a = 4 \cdot R - 6 \cdot r$$

$$a = 3 \cdot r - 2 \cdot R$$

Substituons cette valeur dans une des équations précédente :

$$a^2 = 4 \cdot R^2 - 4 \cdot R \cdot r$$

$$(3 \cdot r - 2 \cdot R)^2 = 4 \cdot R^2 - 4 \cdot R \cdot r$$

$$9 \cdot r^2 - 12 \cdot R \cdot r + 4 \cdot R^2 = 4 \cdot R^2 - 4 \cdot R \cdot r$$

$$9 \cdot r^2 - 12 \cdot R \cdot r = -4 \cdot R \cdot r$$

$$9 \cdot r^2 - 8 \cdot R \cdot r = 0$$

$$r \cdot (9 \cdot r - 8 \cdot R) = 0$$

Le nombre r étant une longueur, elle est non-nulle :

$$9 \cdot r - 8 \cdot R = 0$$

$$9 \cdot r = 8 \cdot R$$

$$r = \frac{8}{9} \cdot R$$

Déterminons la valeur de a :

$$a = 3 \cdot r - 2 \cdot R = 3 \times \frac{8}{9} \cdot R - 2 \cdot R = \frac{24}{9} \cdot R - 2 \cdot R$$

$$= \frac{24 - 18}{9} \cdot R = \frac{6}{9} \cdot R = \frac{2}{3} \cdot R$$