

Proposition :

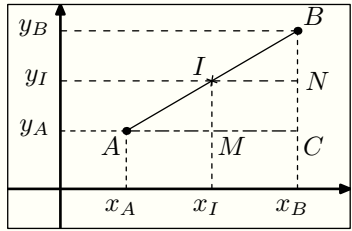
On considère le plan muni d'un repère orthonormé $(O ; ; J)$.

Soit A et B deux points du plan de coordonnées respectives $(x_A ; y_A)$ et $(x_B ; y_B)$. Le point I milieu du segment

$[AB]$ a pour coordonnées : $I\left(\frac{x_A + x_B}{2} ; \frac{y_A + y_B}{2}\right)$

Preuve :

Le graphique ci-dessous représente deux points, A et B , et I le milieu du segment $[AB]$; Considérons le point C de coordonnées $C(x_B ; y_A)$:



Soit I le milieu du segment $[AB]$. On a l'égalité vectorielle: $\vec{AI} = \vec{IB}$.

Or, ces deux vecteurs ont pour coordonnées respectives:

$$\vec{AI} = (x_I - x_A ; y_I - y_A) \quad ; \quad \vec{IB} = (x_B - x_I ; y_B - y_I)$$

Sachant que "si deux vecteurs sont égaux alors leurs abscisses et leurs ordonnées sont égales", on en déduit les deux équations:

$$\begin{array}{l|l} x_I - x_A = x_B - x_I & y_I - y_A = y_B - y_I \\ x_I + x_I = x_B + x_A & y_I + y_I = y_B + y_A \\ 2 \cdot x_I = x_B + x_A & 2 \cdot y_I = y_B + y_A \\ x_I = \frac{x_B + x_A}{2} & y_I = \frac{y_B + y_A}{2} \end{array}$$

Proposition :

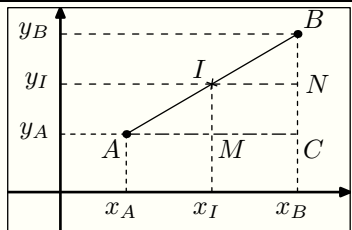
On considère le plan muni d'un repère orthonormé $(O ; ; J)$.

Soit A et B deux points du plan de coordonnées respectives $(x_A ; y_A)$ et $(x_B ; y_B)$. Le point I milieu du segment

$[AB]$ a pour coordonnées : $I\left(\frac{x_A + x_B}{2} ; \frac{y_A + y_B}{2}\right)$

Preuve :

Le graphique ci-dessous représente deux points, A et B , et I le milieu du segment $[AB]$; Considérons le point C de coordonnées $C(x_B ; y_A)$:



Soit I le milieu du segment $[AB]$. On a l'égalité vectorielle: $\vec{AI} = \vec{IB}$.

Or, ces deux vecteurs ont pour coordonnées respectives:

$$\vec{AI} = (x_I - x_A ; y_I - y_A) \quad ; \quad \vec{IB} = (x_B - x_I ; y_B - y_I)$$

Sachant que "si deux vecteurs sont égaux alors leurs abscisses et leurs ordonnées sont égales", on en déduit les deux équations:

$$\begin{array}{l|l} x_I - x_A = x_B - x_I & y_I - y_A = y_B - y_I \\ x_I + x_I = x_B + x_A & y_I + y_I = y_B + y_A \\ 2 \cdot x_I = x_B + x_A & 2 \cdot y_I = y_B + y_A \\ x_I = \frac{x_B + x_A}{2} & y_I = \frac{y_B + y_A}{2} \end{array}$$

Proposition :

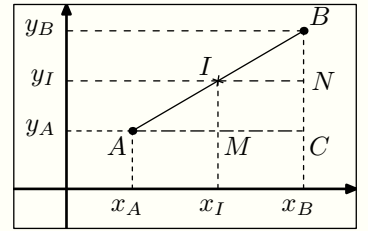
On considère le plan muni d'un repère orthonormé $(O ; ; J)$.

Soit A et B deux points du plan de coordonnées respectives $(x_A ; y_A)$ et $(x_B ; y_B)$. Le point I milieu du segment

$[AB]$ a pour coordonnées : $I\left(\frac{x_A + x_B}{2} ; \frac{y_A + y_B}{2}\right)$

Preuve :

Le graphique ci-dessous représente deux points, A et B , et I le milieu du segment $[AB]$; Considérons le point C de coordonnées $C(x_B ; y_A)$:



Soit I le milieu du segment $[AB]$. On a l'égalité vectorielle: $\vec{AI} = \vec{IB}$.

Or, ces deux vecteurs ont pour coordonnées respectives:

$$\vec{AI} = (x_I - x_A ; y_I - y_A) \quad ; \quad \vec{IB} = (x_B - x_I ; y_B - y_I)$$

Sachant que "si deux vecteurs sont égaux alors leurs abscisses et leurs ordonnées sont égales", on en déduit les deux équations:

$$\begin{array}{l|l} x_I - x_A = x_B - x_I & y_I - y_A = y_B - y_I \\ x_I + x_I = x_B + x_A & y_I + y_I = y_B + y_A \\ 2 \cdot x_I = x_B + x_A & 2 \cdot y_I = y_B + y_A \\ x_I = \frac{x_B + x_A}{2} & y_I = \frac{y_B + y_A}{2} \end{array}$$

Proposition :

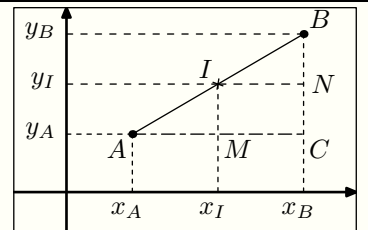
On considère le plan muni d'un repère orthonormé $(O ; ; J)$.

Soit A et B deux points du plan de coordonnées respectives $(x_A ; y_A)$ et $(x_B ; y_B)$. Le point I milieu du segment

$[AB]$ a pour coordonnées : $I\left(\frac{x_A + x_B}{2} ; \frac{y_A + y_B}{2}\right)$

Preuve :

Le graphique ci-dessous représente deux points, A et B , et I le milieu du segment $[AB]$; Considérons le point C de coordonnées $C(x_B ; y_A)$:



Soit I le milieu du segment $[AB]$. On a l'égalité vectorielle: $\vec{AI} = \vec{IB}$.

Or, ces deux vecteurs ont pour coordonnées respectives:

$$\vec{AI} = (x_I - x_A ; y_I - y_A) \quad ; \quad \vec{IB} = (x_B - x_I ; y_B - y_I)$$

Sachant que "si deux vecteurs sont égaux alors leurs abscisses et leurs ordonnées sont égales", on en déduit les deux équations:

$$\begin{array}{l|l} x_I - x_A = x_B - x_I & y_I - y_A = y_B - y_I \\ x_I + x_I = x_B + x_A & y_I + y_I = y_B + y_A \\ 2 \cdot x_I = x_B + x_A & 2 \cdot y_I = y_B + y_A \\ x_I = \frac{x_B + x_A}{2} & y_I = \frac{y_B + y_A}{2} \end{array}$$