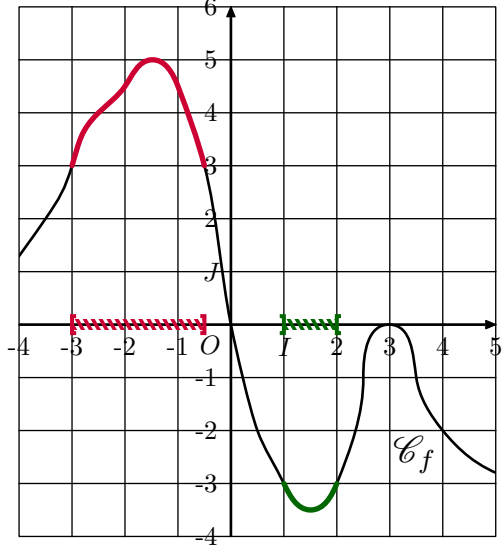


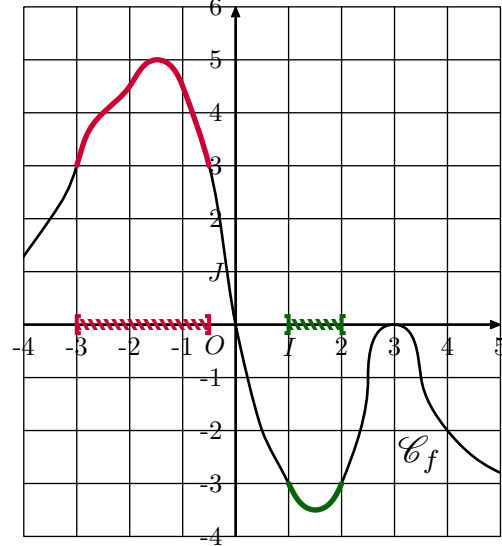
Ci-dessous sont représentées les solutions des deux équations :

$$f(x) \geq 3 \quad ; \quad f(x) < -3$$



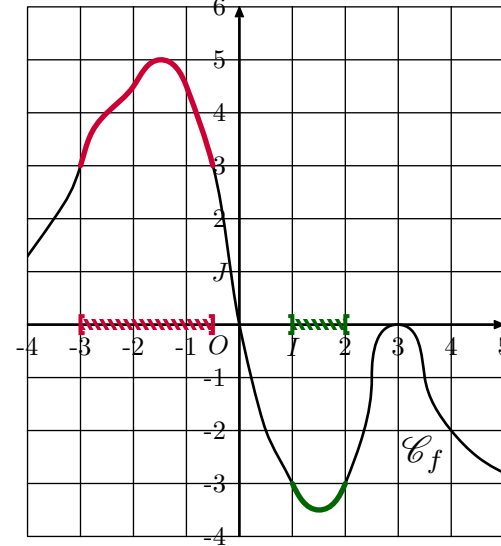
Ci-dessous sont représentées les solutions des deux équations :

$$f(x) \geq 3 \quad ; \quad f(x) < -3$$



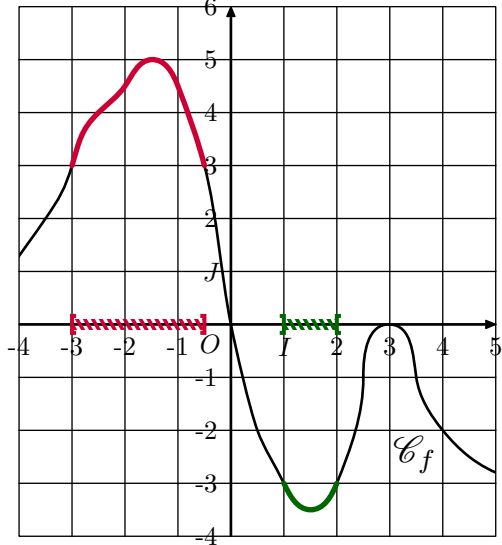
Ci-dessous sont représentées les solutions des deux équations :

$$f(x) \geq 3 \quad ; \quad f(x) < -3$$



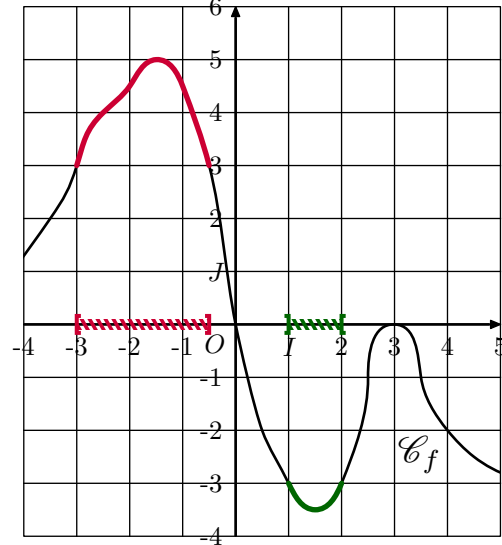
Ci-dessous sont représentées les solutions des deux équations :

$$f(x) \geq 3 \quad ; \quad f(x) < -3$$



Ci-dessous sont représentées les solutions des deux équations :

$$f(x) \geq 3 \quad ; \quad f(x) < -3$$



Ci-dessous sont représentées les solutions des deux équations :

$$f(x) \geq 3 \quad ; \quad f(x) < -3$$

