



Exercice 1



Dans un café, voici deux commandes et le montant de leur facture :



Quels sont les prix, dans ce café, d'un café et d'une canette?

Exercice 1



Dans un café, voici deux commandes et le montant de leur facture :



Quels sont les prix, dans ce café, d'un café et d'une canette?

Exercice 1



Dans un café, voici deux commandes et le montant de leur facture :



Quels sont les prix, dans ce café, d'un café et d'une canette?

Exercice 1



Dans un café, voici deux commandes et le montant de leur facture :



Quels sont les prix, dans ce café, d'un café et d'une canette?

Exercice 1



Dans un café, voici deux commandes et le montant de leur facture :



Quels sont les prix, dans ce café, d'un café et d'une canette?

Exercice 1



Dans un café, voici deux commandes et le montant de leur facture :



Quels sont les prix, dans ce café, d'un café et d'une canette?

Exercice 1



Dans un café, voici deux commandes et le montant de leur facture :



Quels sont les prix, dans ce café, d'un café et d'une canette?

Exercice 1


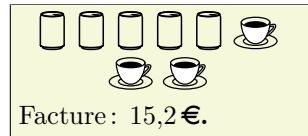
Dans un café, voici deux commandes et le montant de leur facture :



Quels sont les prix, dans ce café, d'un café et d'une canette?

Exercice 1


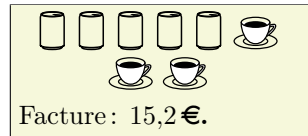
Dans un café, voici deux commandes et le montant de leur facture :



Quels sont les prix, dans ce café, d'un café et d'une canette?

Exercice 1


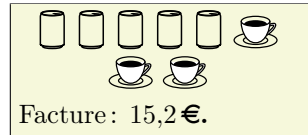
Dans un café, voici deux commandes et le montant de leur facture :



Quels sont les prix, dans ce café, d'un café et d'une canette?

Exercice 1


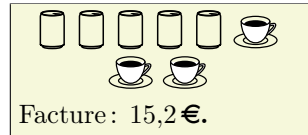
Dans un café, voici deux commandes et le montant de leur facture :



Quels sont les prix, dans ce café, d'un café et d'une canette?

Exercice 1

Dans un café, voici deux commandes et le montant de leur facture :



Quels sont les prix, dans ce café, d'un café et d'une canette?