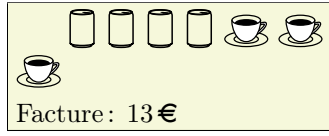


Exercice 1

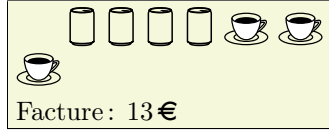
Dans un café, voici deux commandes et le montant de leur facture :



Dans ce café, quels sont les prix d'un café et d'une canette?

Exercice 1

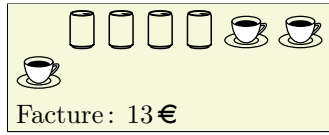

Dans un café, voici deux commandes et le montant de leur facture :



Dans ce café, quels sont les prix d'un café et d'une canette?

Exercice 1

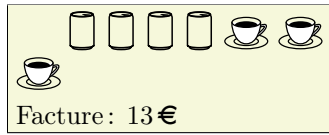

Dans un café, voici deux commandes et le montant de leur facture :



Dans ce café, quels sont les prix d'un café et d'une canette?

Exercice 1

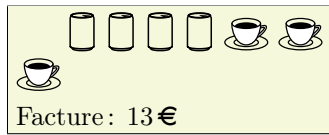

Dans un café, voici deux commandes et le montant de leur facture :



Dans ce café, quels sont les prix d'un café et d'une canette?

Exercice 1

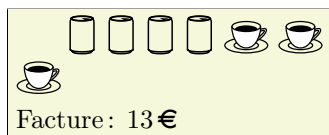

Dans un café, voici deux commandes et le montant de leur facture :



Dans ce café, quels sont les prix d'un café et d'une canette?

Exercice 1

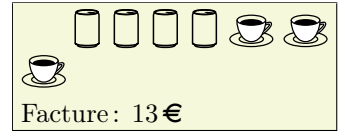

Dans un café, voici deux commandes et le montant de leur facture :



Dans ce café, quels sont les prix d'un café et d'une canette?

Exercice 1

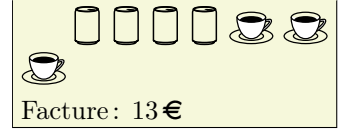

Dans un café, voici deux commandes et le montant de leur facture :



Dans ce café, quels sont les prix d'un café et d'une canette?

Exercice 1

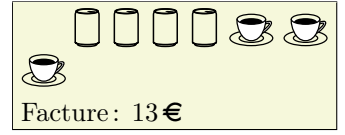

Dans un café, voici deux commandes et le montant de leur facture :



Dans ce café, quels sont les prix d'un café et d'une canette?

Exercice 1

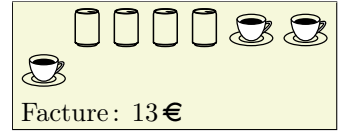

Dans un café, voici deux commandes et le montant de leur facture :



Dans ce café, quels sont les prix d'un café et d'une canette?

Exercice 1

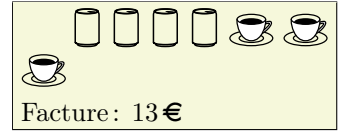

Dans un café, voici deux commandes et le montant de leur facture :



Dans ce café, quels sont les prix d'un café et d'une canette?

Exercice 1

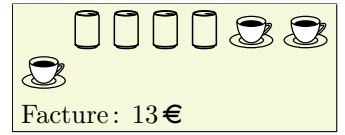

Dans un café, voici deux commandes et le montant de leur facture :



Dans ce café, quels sont les prix d'un café et d'une canette?

Exercice 1

Dans un café, voici deux commandes et le montant de leur facture :



Dans ce café, quels sont les prix d'un café et d'une canette?