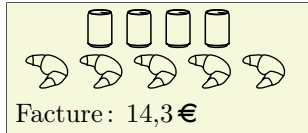
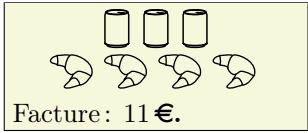


**Exercice 1**

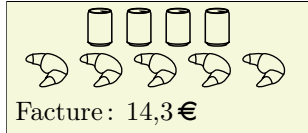
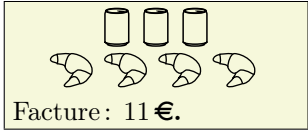
Dans un café, voici deux commandes et le montant de leur facture :



Dans ce café, quels sont les prix d'un croissant et d'une canette?

**Exercice 1**

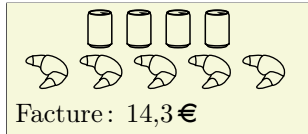
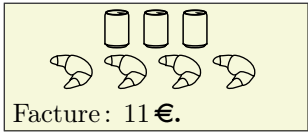
Dans un café, voici deux commandes et le montant de leur facture :



Dans ce café, quels sont les prix d'un croissant et d'une canette?

**Exercice 1**

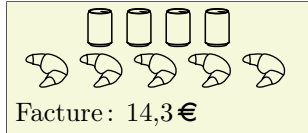
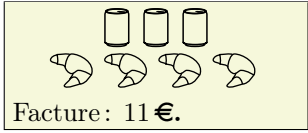
Dans un café, voici deux commandes et le montant de leur facture :



Dans ce café, quels sont les prix d'un croissant et d'une canette?

**Exercice 1**

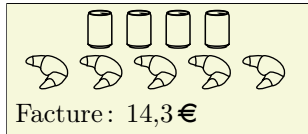
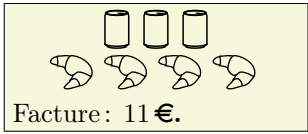
Dans un café, voici deux commandes et le montant de leur facture :



Dans ce café, quels sont les prix d'un croissant et d'une canette?

**Exercice 1**

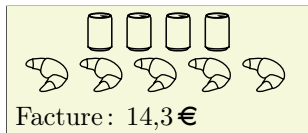
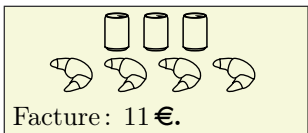
Dans un café, voici deux commandes et le montant de leur facture :



Dans ce café, quels sont les prix d'un croissant et d'une canette?

**Exercice 1**

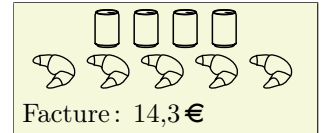
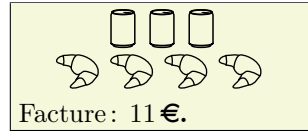
Dans un café, voici deux commandes et le montant de leur facture :



Dans ce café, quels sont les prix d'un croissant et d'une canette?

**Exercice 1**

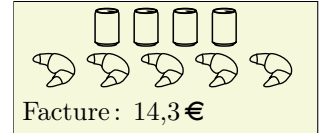
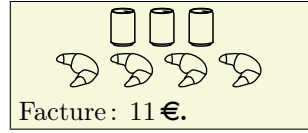
Dans un café, voici deux commandes et le montant de leur facture :



Dans ce café, quels sont les prix d'un croissant et d'une canette?

**Exercice 1**

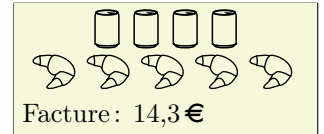
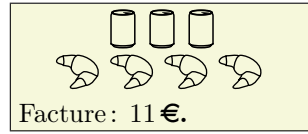
Dans un café, voici deux commandes et le montant de leur facture :



Dans ce café, quels sont les prix d'un croissant et d'une canette?

**Exercice 1**

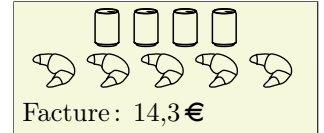
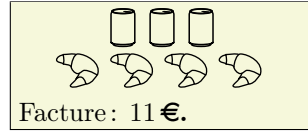
Dans un café, voici deux commandes et le montant de leur facture :



Dans ce café, quels sont les prix d'un croissant et d'une canette?

**Exercice 1**

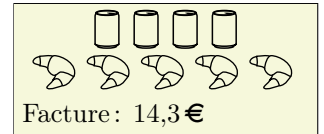
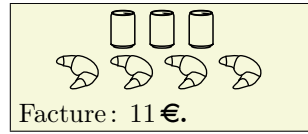
Dans un café, voici deux commandes et le montant de leur facture :



Dans ce café, quels sont les prix d'un croissant et d'une canette?

**Exercice 1**

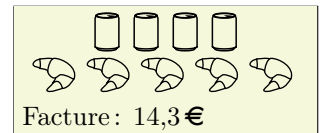
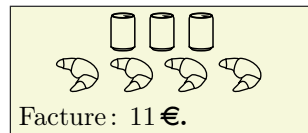
Dans un café, voici deux commandes et le montant de leur facture :



Dans ce café, quels sont les prix d'un croissant et d'une canette?

**Exercice 1**

Dans un café, voici deux commandes et le montant de leur facture :



Dans ce café, quels sont les prix d'un croissant et d'une canette?