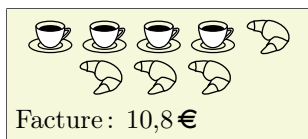



Exercice 1

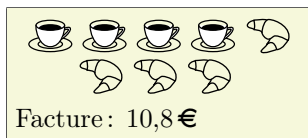

Dans un café, voici deux commandes et le montant de leur facture :



Dans ce café, quels sont les prix d'un croissant et d'un café?

Exercice 1



Dans un café, voici deux commandes et le montant de leur facture :



Dans ce café, quels sont les prix d'un croissant et d'un café?

Exercice 1



Dans un café, voici deux commandes et le montant de leur facture :



Dans ce café, quels sont les prix d'un croissant et d'un café?

Exercice 1



Dans un café, voici deux commandes et le montant de leur facture :



Dans ce café, quels sont les prix d'un croissant et d'un café?

Exercice 1



Dans un café, voici deux commandes et le montant de leur facture :



Dans ce café, quels sont les prix d'un croissant et d'un café?

Exercice 1

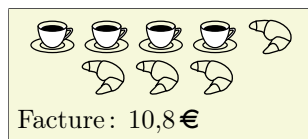

Dans un café, voici deux commandes et le montant de leur facture :



Dans ce café, quels sont les prix d'un croissant et d'un café?

Exercice 1

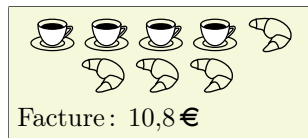

Dans un café, voici deux commandes et le montant de leur facture :



Dans ce café, quels sont les prix d'un croissant et d'un café?

Exercice 1

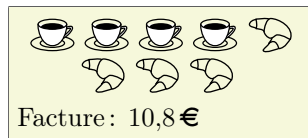

Dans un café, voici deux commandes et le montant de leur facture :



Dans ce café, quels sont les prix d'un croissant et d'un café?

Exercice 1

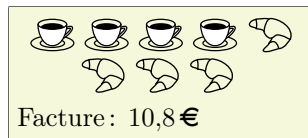

Dans un café, voici deux commandes et le montant de leur facture :



Dans ce café, quels sont les prix d'un croissant et d'un café?

Exercice 1



Dans un café, voici deux commandes et le montant de leur facture :



Dans ce café, quels sont les prix d'un croissant et d'un café?

Exercice 1

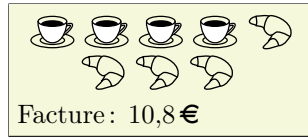

Dans un café, voici deux commandes et le montant de leur facture :



Dans ce café, quels sont les prix d'un croissant et d'un café?

Exercice 1

Dans un café, voici deux commandes et le montant de leur facture :



Dans ce café, quels sont les prix d'un croissant et d'un café?