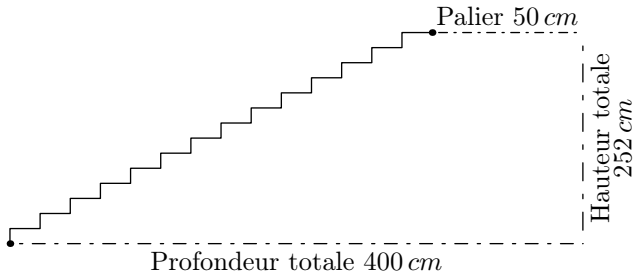


### Exercice 1

Ci-dessous est donnée une vue de profil d'un escalier de 14 marches.

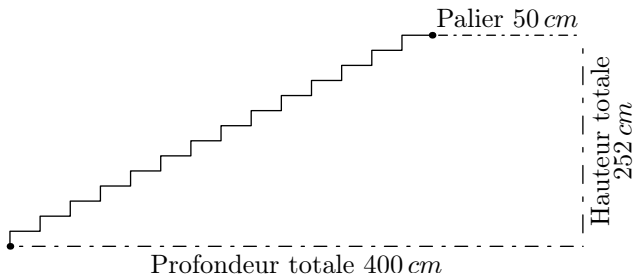


Un menuisier doit recouvrir ces marches de bois ; pour cela, il a besoin de connaître la longueur formée par les marches : cette longueur est représentée sur le dessin par la ligne brisée reliant les deux points.

Donner la mesure de cette longueur.

### Exercice 1

Ci-dessous est donnée une vue de profil d'un escalier de 14 marches.

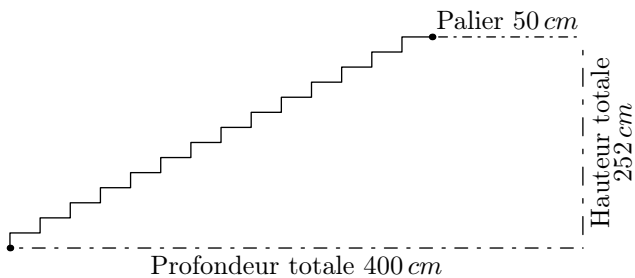


Un menuisier doit recouvrir ces marches de bois ; pour cela, il a besoin de connaître la longueur formée par les marches : cette longueur est représentée sur le dessin par la ligne brisée reliant les deux points.

Donner la mesure de cette longueur.

### Exercice 1

Ci-dessous est donnée une vue de profil d'un escalier de 14 marches.

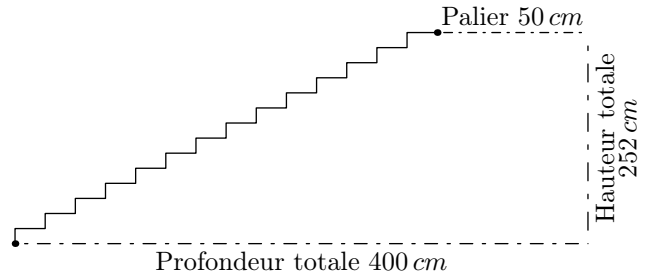


Un menuisier doit recouvrir ces marches de bois ; pour cela, il a besoin de connaître la longueur formée par les marches : cette longueur est représentée sur le dessin par la ligne brisée reliant les deux points.

Donner la mesure de cette longueur.

### Exercice 1

Ci-dessous est donnée une vue de profil d'un escalier de 14 marches.

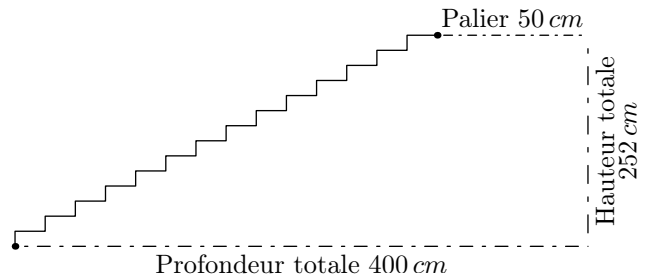


Un menuisier doit recouvrir ces marches de bois ; pour cela, il a besoin de connaître la longueur formée par les marches : cette longueur est représentée sur le dessin par la ligne brisée reliant les deux points.

Donner la mesure de cette longueur.

### Exercice 1

Ci-dessous est donnée une vue de profil d'un escalier de 14 marches.

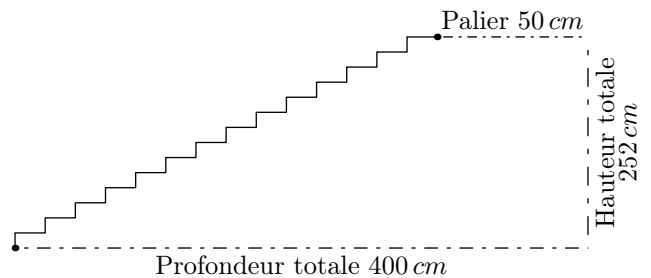


Un menuisier doit recouvrir ces marches de bois ; pour cela, il a besoin de connaître la longueur formée par les marches : cette longueur est représentée sur le dessin par la ligne brisée reliant les deux points.

Donner la mesure de cette longueur.

### Exercice 1

Ci-dessous est donnée une vue de profil d'un escalier de 14 marches.



Un menuisier doit recouvrir ces marches de bois ; pour cela, il a besoin de connaître la longueur formée par les marches : cette longueur est représentée sur le dessin par la ligne brisée reliant les deux points.

Donner la mesure de cette longueur.